

Afrikaans Huistaal - E Janse van Rensburg

I. Lees:

I.1 Lees ekstra stories:

- Lees ten minste 30 minute elke dag. (Stillees m.a.w. jy lees vir jousef, hardop lees m.a.w. jy lees vir iemand of jy kan na 'n storie luister)

I.2 Sigwoorde:

Laat iemand tyd hou hoe vining jy die sigwoorde kan lees. Kyk of jy elke dag kan verbeter.

<u>Maandag</u>	<u>Dinsdag</u>	<u>Woensdag</u>	<u>Donderdag</u>	<u>Vrydag</u>
'n	kry	daardie	aand	speelgoed
so	kyk	darem	wolke	wegkruip
is	lees	beter	sonskyn	afdraai
ek	kan	beste	reën	woonwa
en	drie	elke	water	plek
al	dag	vining	kinders	swembad
om	daar	water	speel	branders
se	almal	klim	draai	seesand
hy	seer	storie	omdraai	golwe
sy	soos	hulle	klop	boot
sê	darem	jou	kamp	bootreis
ver	doer	hard	tent	uitkamp
ons	maal	hierdie	swem	braai
die	hou	betaal	sand	trek
dit	hier	motor	sonroom	braaivleis
Tyd:-----	Tyd:-----	Tyd:-----	Tyd:-----	Tyd:-----
Tyd:-----	Tyd:-----	Tyd:-----	Tyd:-----	Tyd:-----

2. Klanke:

2.1 Doen die gr. klanke taak sowel as die leesstuk langsaan.

Omkring al die gr-woorde in die leesstuk.

gr

ond

aaf

aat

oot

gr



as


aan

ens

ot

Kom ons lees saam.


By die dieretuin.



Graatjie is die naam van 'n aap by die dieretuin.

Hy groet graag die ander diere.

Groot-Jan is die naam van die growwe, grys olifant.



Hy grom graag vir die ander diere en stamp sy voete teen die grond.



Grieta is 'n groen papegaaie.

Sy grawe graag in die gras rond vir goggas.

3. Taal:

3.1 Bespreek hede, verlede en toekomstige tyd.

Doen die takie.

Verlede Tyd: Skryf die volgende sinne oor in die verlede tyd

1. Ek skryf 'n storie.

Gister _____

2. Lien borsel haar tande.

Gister _____

3. Pappa braai snoek op die kole.

Gister _____

3.2: Behandel selfstandige naamwoorde.

Doen die takie.

Vul die selfstandige naamwoorde in:

fiets

rekenaar

televisie

potlood

1. Ons familie kyk saam die nuus op die _____.

2. Ek ry op my nuwe _____.

3. Pappa tik en werk op sy _____.

4. Ek skryf met my _____.

3.3 Hersien puntuasie, rymwoorde en lettergrepe.

<u>Lees die woord</u>	<u>Skryf 'n woord rym daarmee...</u>	<u>Breek die word op in lettergrepe.</u>
winter		
medisyne		
hospitaal		
familie		

3.4 Hersien diere, manlike en vroulik, geluide en kleintjies.

3.5 Hersien geskommelde sinne.

Doen die takie:

1. virus baie Die siek. maak jou

2. elke medisyne Drink dag. jou

3. dokter. Luister die na

4. Skryf:

4.1 Kies enige 10 woorde van die sigwoorde op bladsy 1 en skryf 'n sin met elkeen.

4.2 Kies jou gunsteling onderwerp en skryf daaroor. Teken ook 'n prent daarby.

Bv. My gunsteling seisoen

My troeteldier

Ek help vir mamma in die huis / Ek help vir papa in die tuin

Ons bak...of ons kook...

4.3 Lees die stuk wat jy geskryf het oor, maak reg en lees dit weer.

5. Handskrif:

5.1 aA cC kK oefen 3 rye van elk in jou huiswerkboek.

Sorg dat die letters bo en onder aan die lyne raak.

Kyk mooi dat jou letters rond en toe is.

6. Luister en Praat:

6.1 Ken jy nog jou mondelinge? Oefen dit ten minste 1 keer per week.

6.2 As jy sinne skryf, lees dit oor en maak jou foutjies reg.

6.3 Wanneer jy lees, kyk of jy al jou stem kan gebruik, amper asof jy 'n storie vertel.

6.4 Vra vir iemand in die huis of jy vir hulle kan lees.

6.5 Vra vir iemand anders in die huis om vir jou te lees.

First Additional Language /English. (gr.2 EJvR)

Vir die Afrikaanse klas van E.Janse van Resnburg

I. Reading: Practice the sight words. Must be able to read it fluently.

Second Grade Reading Word List

the	boy	saw	many	don't	could
go	but	school	into	open	young
in	can't	she	number	though	family
is	car	some	people	four	talk
me	come	tell	brother	high	across
to	day	that	toward	between	next
can	do	them	hundred	under	also
it	down	there	first	story	sign
you	eat	they	water	present	color
see	friend	thing	question	watch	early
my	from	this	problem	leave	put
said	fun	would	work	favorite	listen
have	girl	them	any	every	jump
get	give	us	does	earth	ride
not	good	up	because	eye	write
we	had	want	only	always	draw
and	has	when	very	both	subtract
like	before	why	great	paper	our
did	her	where	beautiful	often	read
run	here	what	large	until	ate
for	him	went	move	children	time
was	his	who	again	night	laugh
on	house	will	point	carry	favorite
at	how	with	father	once	found
as	little	your	sentence	later	rain
of	look	were	through	without	black
if	made	or	follow	almost	know
are	make	one	even	being	most
after	new	girl	different	example	mother
all	now	use	picture	together	drink
am	no	each	find	group	done
animal	off	their	answer	important	grow
as	old	which	study	second	teacher
be	out	these	learn	idea	outside
about	over	two	world	enough	people
best	play	been	add	really	soon
big	ran	word	city	sometimes	equal

2. Complete the -oo- task:

Write a sentence with each word:

1. boot / boots

2. book

3. food

4. tools

5. moon

6. spoon



Well done..
Keep going!!!!

"OO" Words


Name: _____



b _ _ _ t



b _ _ _ k



f _ _ _ d



t _ _ _ l s



m _ _ _ n



s p _ _ _ n

Wiskunde:

Tel:

- Tel aan en terug tot 140
- Tel in 3 en 4 tot 99

Kalender:

- Kyk na die kalender. Praat oor die dae, maande voor en na en oor die weke. Hoeveel Maandae is daar? Hoeveel Saterdagae is daar?

Hoofrekeninge:

- Oefen maats van 10, 11 en 12

Getalname:

- Oefen getalname tot 100

Tyd:

- Oefen om tyd te lees. Ure en halfure, kan ook kwart oor en kwartvoor oefen.

Voltooi die takies.

Tel

Tel aan in 5:

25									
----	--	--	--	--	--	--	--	--	--

Tel terug in 3:

56									
----	--	--	--	--	--	--	--	--	--

Tel aan in 4:

20									
----	--	--	--	--	--	--	--	--	--

Voltooi:

60		80	90			120	130		
----	--	----	----	--	--	-----	-----	--	--

	110	115			130	135	140	145	
--	-----	-----	--	--	-----	-----	-----	-----	--

	141	140		138		136			
--	-----	-----	--	-----	--	-----	--	--	--

PEANUTS®



Bewerkings:

Voltooi:

$25 + 10 =$	$16 + 10 =$
$26 + 20 =$	$25 + 20 =$
$34 + 10 =$	$33 + 10 =$
$39 + 20 =$	$14 + 20 =$
$43 + 10 =$	$41 + 20 =$

Wat is:

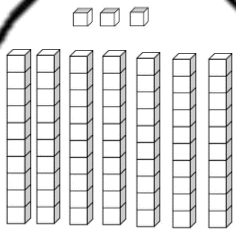
$3 \times 2 =$	$2 \times 2 =$
$4 \times 2 =$	$6 \times 2 =$
$1 \times 2 =$	$7 \times 2 =$
$5 \times 2 =$	$9 \times 2 =$

Op die volgende bladsy: Maak jou eie plekwaarde roomyse. Pas die skeppies by die regte horingtjies.

$70 + 3$

nege en
twintig

2 tiene
9 ene

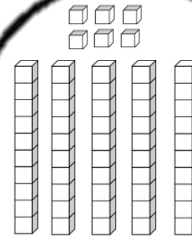


7 tiene
3 ene

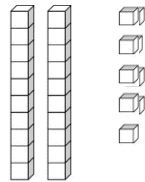
$50 + 6$

5 tiene
6 ene

drie en
sewentig



$20 + 9$



ses en
vyftig

56

73

29

Verdubbel en Halveer

Gebruik jou metode om die volgende op te los:

Verdubbel: 43

Verdubbel: 24


Halveer: 76

Halveer: 84

Verdubbel: 32

Halveer: 38

DOG MATH



"If I have 3 bones and Mr. Jones takes away 2,
how many fingers will he have left?"

Getalname en simbole

Kyk na die getal en skryf die getalnaam:

96	
43	
28	
73	
54	

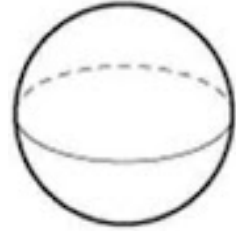

Verbind die getal met die regte getalnaam:

59
26
84
100
124
80

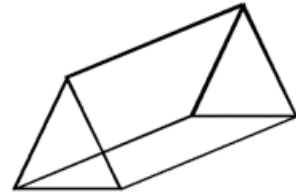

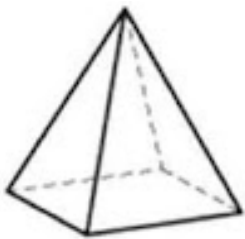
vier en tagtig
een honderd vier en twintig
tagtig
nege en vyftig
ses en twintig
een honderd

3D en 2D

Benoem die vorms:



--	--	--




--	--	--

Teken die vorm met twee lang sye en twee korter sye:


Ons noem dit 'n _____

ONEWE en EWE getalle



Ek hou van
getalle wat
eindig op 1, 3,
5, 7 en 9

Ek hou van
getalle wat
eindig op 0, 2,
4, 6, en 8



Kyk na die getalle in die wolkie:

61 66 68 64
60 65 62
63 69 67

Teken 'n sirkel om die ewe getalle en 'n driehoek om die onewe getalle.

Sort die getalle in volgorde:

Watter ewe getal kom na 69? _____

Watter onewe getal om voor 62? _____

Watter getal is groter as 70 maar kleiner as 73 en is 'n ewe getal? _____

MEER as, MINDER as..

Een meer as:

1 meer as 38 is _____

1 meer as 56 is _____

1 meer as 29 is _____

1 meer as 70 is _____

1 meer as 99 is _____

Een minder as:

1 minder as 29 is _____

1 minder as 60 is _____

1 minder as 37 is _____

1 minder as 88 is _____

1 minder as 101 is _____

10 meer as:

10 meer as 40 is _____

10 meer as 35 is _____

10 meer as 22 is _____

10 meer as 19 is _____

10 meer as 56 is _____

10 minder as:


10 minder as 70 is _____

10 minder as 54 is _____

10 minder as 28 is _____

10 minder as 35 is _____

10 minder as 29 is _____



Jou juffrou mis
jou meer as al die
sterre in die lug!

Getalle

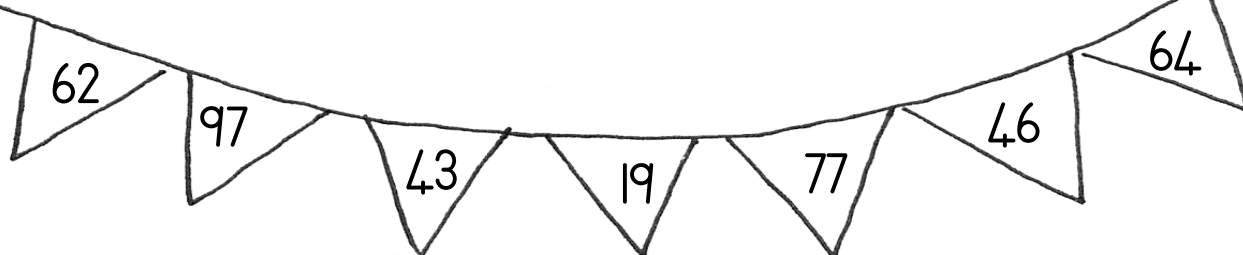
Voor, na en tussen:

voor	
	98
	12
	34
	56
	78
	92
	80

tussen		
15		17
65		67
86		88
42		44
15		17
37		39
58		60


na	
99	
82	
55	
36	
42	
8	
20	

Rangskik die getalle in die vlaggies van groot na klein:



Data

Organiseer die data onder in die grafiek. Gebruik dan die inligting van die grafiek om die vrae te beantwoord.



Nadat die kinders gaan paaseiers soek het, het hulle die paaseiers getel.

Organiseer die paaseiers in die grafiek hierbo.

Jack het 45 paaseiers

Linda het 25 paaseiers

Katie het 32 paaseiers

Steve het 49 paaseiers

Wie het die meeste paaseiers? _____

Wie het 25 paaseiers? _____

Rangskik die hoeveelhede van die meeste na die minste:

Hersiening en Verryking

1. Aanvangskennis:

PowerPoint: **Wat ek moet weet van plaasdiere**

Hersien varke, skape en bokke.

Fokus op beeste, perde en hoenders.

2. Liggaamlike Opvoeding:

Balans: Tou op vloer; spring heen en weer oor tou, hou voete bymekaar, van een punt van die tou tot die ander punt.

Lateraliteit: Spring op een been na baken; ruil bene en spring terug.

3. Skeppende kunste: Visuele kuns:

Opsioneel-

PowerPoint: **Kuns PP Skep 'n seisoenboom**

Volg die stappe en maak jou eie prent.

E-portaal skakels vir hersiening:

<https://wcedeportal.co.za/eresource/101151>

<https://wcedeportal.co.za/eresource/99351>

<https://wcedeportal.co.za/eresource/96716>

<https://wcedeportal.co.za/eresource/96721>

<https://wcedeportal.co.za/eresource/96696>

<https://wcedeportal.co.za/eresource/96671>

<https://wcedeportal.co.za/eresource/96646>

<https://wcedeportal.co.za/eresource/94111>