



Liewe Graad 3MS Ouers / Voogde

29 Junie 2020

Ek sien uit daarna om elke leerder terug in my klas te verwelkom. Dankie aan die ouers wat tydens die inperking getrou met hul kinders skoolwerk gedoen het. Dankie ook aan almal wat die skool se "Virtual Raffle" ondersteun en kos/produkte by die "Care Group Drive Thru" geskenk het.

Hiermee 'n paar reëlings met die leerders se terugkeer skool toe:

- ❖ Elke leerder ontvang die eerste dag van skool twee maskers. Ek het dit reeds gemerk. Leerders moet asseblief elke dag 'n spaar masker in hul tas hê. Onthou ook dat u kind se masker elke dag gewas moet word.
- ❖ Elke leerder ontvang 'n skanderings boekie. Die boekie bly by die huis en leerders kom skool toe met een ingevulde vorm wat uit die boekie geskeur word.
- ❖ Trek asseblief Kwartaal 3 en 4 se WKOD werkboeke met plastiek oor en stuur dit terug skool toe.
- ❖ Huiswerk sal soos voorheen daaglik in leerders se huiswerkboeke geskryf word. Dit is baie belangrik dat leerders elke dag hul huiswerk sal voltooi. Hulle moet in 'n baie korter tydperk vir Graad 4 voorberei word.
- ❖ Leerders se Kwartaal 1 en 2 WKOD werkboeke moet asseblief terug kom skool toe, ons gaan verder in die klas daarin werk.
- ❖ Besig-Bly boek 2 sal gebruik word vir huiswerk. Die Klaswerkboek sal die daaglikse werkboek vir in die klas wees.
- ❖ Maak asseblief seker dat u RISE het aangesien alle belangrike inligting daarop gekommunikeer word.

U kan my steeds kontak by die volgende e-pos adres:
mswanepoel@dkps.org.za

Vriendelike groete
Mev. M. Swanepoel

Samevoegings

1. Ek is baie lief vir mamma.
_____ baie lief vir mamma.
2. Ek het drie broers.
_____ drie broers.
3. Dit is 'n mooi dag,
_____ 'n mooi dag.
4. Ons het baie geld.
_____ baie geld.
5. Wie is by die deur?
_____ by die deur?
6. Hj is baie stout.
_____ baie stout.
7. Sy is gelukkig.
_____ gelukkig.
8. Hoe is dit moontlik?
_____ dit moontlik?


Onderstreep die werkwoorde in die volgende sinne:

1. Die stout meisie spring op haar ma se bed.
2. Die seuns hardloop vinnig wanneer hulle rugby speel.
3. Ek loop elke dag skool toe en terug.
4. Die hond vang die bal wanneer ek dit vir hom gooi.

Onderstreep die selfstandige naamwoord en trek 'n sirkel om die byvoeglike naamwoord:

1. Die pragtige meisie doen altyd al haar werk.
2. Die vinnige hond jaag die kat.
3. Ek swem altyd in baie koue water.
4. Mamma koop vir my 'n heerlike roomys.
5. Die kwaai juffrou skel die stout kinders.
6. Die vet varkie rol in die modder op die plaas.
7. Ek hou daarvan om te speel op die groen gras.

Getalbegrip
Tel die insekte



Hoeveelheid insekte: _____
Verduidelik jou metode wat jy gebruik het om die insekte te tel. _____

Vul in: sinonieme (woorde met dieselfde betekenis)


1. Dit is 'n pragtige / _____ babatjie.
2. Die kinders sê die somme is baie eenvoudig / _____.
3. Mamma is baie woedend / _____ vir ons.
4. Mens moet altyd jou kos bedek / _____ as daar 'n vlieg is.
5. Ek is altyd skrikerig / _____ vir die donker.

Vul in: antonieme (teenoorgesteldes)

6. Die potlood is skerp, maar die kryt is _____.
7. My mamma is jonk, maar my ouma is al _____.
8. My vuil hare moet ek was, dan word dit _____.
9. Ek is gelukkig as dit vakansie is, maar my pa is _____, want hy moet nog werk.
10. My koeldrank is koud en my oupa se koffie is _____.

Werk met geld

Die pryslys: Themba se winkel	
Produk	Prys
Suiker	R13,75
Spaghetti	R8,50
Pasta	R7,25
Rys	R21,10
Sjokolade	R10,80
Pap	R31,70



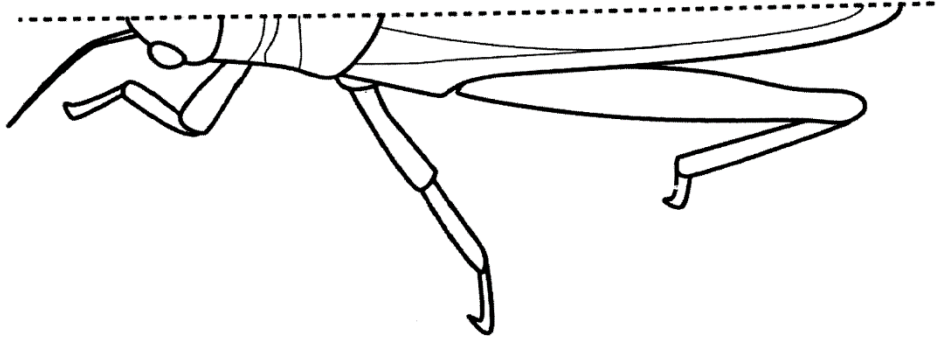
1. Hoeveel sal jy betaal vir suiker en rys?

2. Hoeveel sal jy betaal vir pap, pasta en spaghetti?

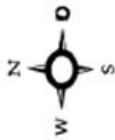
3. Wat is die verskil tussen die pap en die suiker?



Voltooi die springkaan



4. Gebruik die kompas om jou te help om die rigting soos aangedui te vind.



	taxi rank 	posbus 	nuusagente
brandweertasie 		petrolstasie 	
	skool 	koffiewinkel Hot Coffee 	polisiestasie
busstrop 	bank 	BEGIN HIER	supermark

a. Begin by die begin, en beweeg 2 blokkies oos. Waar is jy nou? _____

b. Beweeg 2 blokkies na die noord. Waar is jy nou? _____

c. Beweeg 4 blokkies wes. Waar is jy nou? _____

d. Beweeg 2 blokkies noord. Waar is jy nou? _____

e. Beweeg 5 blokkies oos en 3 blokkies Suid. Waar is jy nou? _____

(5)

Daar is verskeie metode om ewe en tere op te tel. Kies 'n metode wat jy ken om hierdie probleem op te los. Wye jou bewerkings.

1. Pieter pluk eers 211 perliere en daarna 87 perliere. Hoewel perliere is altesaam gepluk?



2. Die Mulai-kinders het saam 23000 pesen. Hulle mamma gee vir hulle nog R50. Hoewel het hulle in totaal?



3. Die skoolbus ry 23 km in die oggend en 18 km in die namiddag. Hoewel kilometer is dit altesaam?



Musa

d. Musa verkoop haar tye. Hy begin met 300 kaartjies en het nou 150 oor. Hoewel kaartjies het. Musa het daarvan verkoop?



Sipho


e. Sipho tel 25000 perliere uit. Andile tel 150 uit. Hulle sit dit op 'n hupie. Hoewel meer bottelplappies tel Sipho as Andile?



Andile

- ai -

rain snail railway hail train chain
tail sail paints mail nail fail



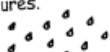
Vowel sound ai ay

Word level

Make ai words for these pictures.



t.....



s.....



sn.....

Make ay words for these pictures.



tr.....



d.....



pl.....

How many ai and ay words can you find?

d	a	y	t	r	c
a	v	c	l	a	y
s	g	r	a	i	n
t	m	a	i	l	h
a	p	a	i	n	f
y	h	k	w	a	y

ai

ay

.....

.....

.....

Vowel sounds ai, ay

Listen to the sound of ai in snail.

The ai sound is usually spelt ay at the end of words.

Listen to the same sound of ay in play.



Q1 Use the letters below to write words that rhyme with snail.

m
t
n
r
fr

+ ail

snail

.....

.....

.....

.....

.....

Q2 Write ai or ay in these words.

tr..... tr.....n tod.....

aw..... afr.....d s.....

cl..... st..... p.....nt